

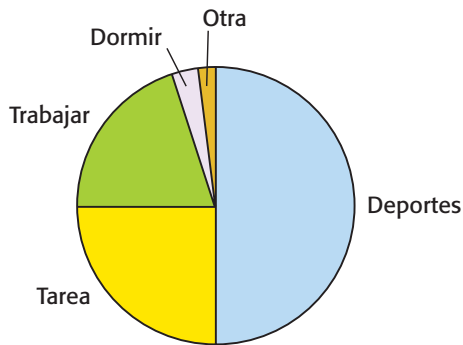
25

Paty hizo una encuesta para determinar las actividades favoritas que los estudiantes realizan fuera de la escuela. La siguiente tabla muestra los resultados.

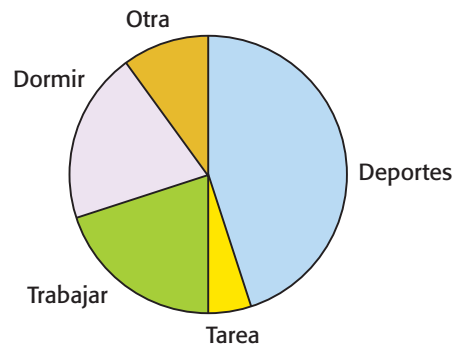
Actividad favorita

Actividad	Porcentaje de estudiantes
Deportes	50%
Tarea	25%
Trabajar	20%
Dormir	3%
Otra	2%

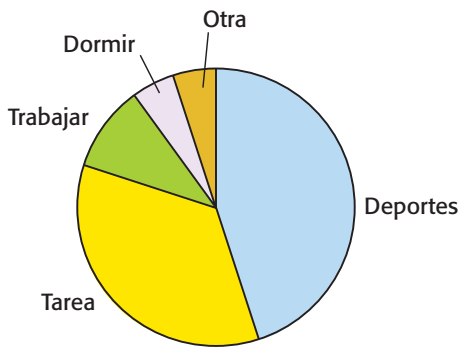
¿Cuál gráfica circular representa *mejor* la información de la tabla?



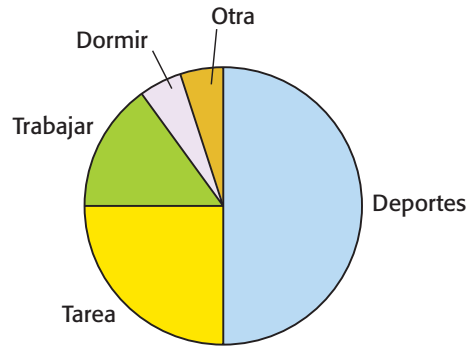
A



C



B



D

70

3190657

Juan tiene una bolsa con unos borradores que son iguales a excepción del color. De los borradores, 6 son de color rosa, 4 son blancos, 5 son verdes y 5 son amarillos. Si Juan mete la mano en la bolsa y sin ver saca un borrador, ¿cuál es la probabilidad de que saque un borrador de color rosa?

- A 20%
- B 30%
- C 60%
- D 70%